



ÚKOL 10)

Popište stručně, jak vypadalo *Moeritherium*:

ÚKOL 11)

Znáмым chobotnatcem je vyhynulý mamut. Napište:

kterému druhu slona byl příbuzný: _____

jak byl přizpůsoben životu v drsných životních podmínkách: _____

ÚKOL 12)

Napište, jak se jmenoval první slon žijící v Zoo Ostrava: _____

ÚKOL 13)

V Zoo Ostrava se v roce 2011 narodilo slůně, které nyní můžete vidět ve sloním stádu. Napište:

jméno slůněte: _____

přesné datum, kdy se slůně narodilo: _____

jak se jmenují rodiče slůněte: _____

ÚKOL 14)

Napište:

kolik váží novorozené slůně: _____

čím slůňata sají mateřské mléko: _____

kde má samice umístěné struky: _____

Sloni představují největší suchozemské savce současnosti. V Zoo Ostrava chováme jeden ze dvou dnes žijících druhů řádu chobotnatci - slona indického.


ÚKOL 1)


V současnosti v přírodě žijí dva druhy slonů: slon africký a slon indický. Přiřadte oběma druhům jednotlivé charakteristiky:

	velké ušní boltce	
SLON INDICKÝ	na konci chobotu 2 hmatové prstíky	SLON AFRICKÝ
	menší ušní boltce	
	kly jsou vyvinuty u obou pohlaví	
	kly jsou vyvinuty většinou jen u samců	
	na hlavě dva čelní hrboly	
	na konci chobotu 1 hmatový prstík	
	hlava s dozadu ubíhajícím čelem	

ÚKOL 2)

K následujícím obrázkům napište, zda se jedná o slona afrického nebo slona indického:





ÚKOL 3)

Nakreslete zakončení chobotu u obou druhů slonů a příslušně je označte (I - slon indický, A - slon africký):

ÚKOL 4)

Vypište, k čemu sloni chobot používají:

ÚKOL 5)

Sloni patří mezi býložravce. Z potravy, jejíž trávení trvá asi 24 hodin, bývá zužitkována méně než polovina obsažených živin. Napište:

kterými zuby drtí potravu: _____

kolik těchto zubů v tlamě mají: _____

kolikrát za život se zuby vymění: _____

Některé zuby vyčnívají slonům z tlamy ven. Napište, jak se nazývají a zda jsou to řezáky, špičáky nebo stoličky:


ÚKOL 6)

Zakroužkujte, jak dlouho je zhruba březí samice:

3 měsíce **9 měsíců** **12 měsíců** **18 měsíců** **22 měsíců**

ÚKOL 7)

U dospělých samců pravidelně probíhá období, které souvisí se zvýšenou produkcí samčího pohlavního hormonu testosteronu. Označuje se jako tzv. MUSTH. Samci jsou v tomto období velmi agresivní. Popište stručně, jak na pohled zjistíme, že je slon v musthu a označte to na sloním těle:



ÚKOL 8)

Lidé slony odedávna využívali. Z následujících možností zakroužkujte, v čem sloni lidem pomáhali a pomáhají, případně při jakých příležitostech plní důležitou roli:

státní a náboženské oslavy

války

těžba dřeva

lov šelem

pracovní síla

přeprava turistů

atrakce v cirkusech

nosič materiálu

ÚKOL 9)

Sloni indičtí patří mezi ohrožené živočichy. Nejvíce je ohrožuje úbytek přirozeného prostředí a také pytláctví. Odedávna byli pronásledováni kvůli slonovině. V roce 1989 byl vydán celosvětový zákaz obchodování se slonovinou, přesto je na černém trhu surovina stále velmi ceněná. Napište:

které části těla slonů se říká slonovina: _____

k čemu se slonovina dříve používala: _____
